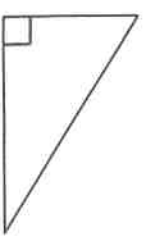


Décrire et tracer un triangle rectangle

M11

On appelle triangle rectangle, un triangle qui a un angle droit.



Pour construire un triangle rectangle, je trace un segment $[AB]$ avec ma règle.

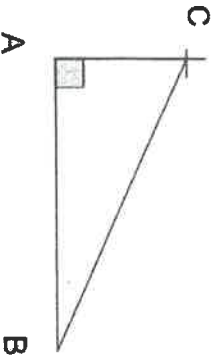


Je trace une demi-droite qui part de A et qui forme un angle droit avec $[AB]$.




Sur cette demi-droite, je place un point C et je trace le segment $[BC]$.

J'ai construit le triangle ABC, rectangle en A.



Entraînement : Colorie les triangles rectangles.



Entraînement : Tracez un triangle rectangle.